

KIERIKKI PARTIOTAITOJEN KEVÄT-SM-KILPAILUT 14.5.2022

SARJA	Or	Vi	Purppura
RASTI	Or 4	Vi 5	Purppura 4
TEHTÄVÄ	Or 6	Vi 7	Purppura 6
MAKSIMIPISTEET	4		



AIKA- JA TAITOTEHTÄVÄ

KILPAILUKOHTAINEN PAINOTUS – KIVIKAUSI

KIERIKIN KIVIKAUSI

Aikaa tehtävän suorittamiseen on 12 minuuttia. Aika alkaa, kun rastihenkilö ojentaa teille vastauslomakkeen ja loppuu, kun palautatte vastauslomakkeen rastin poistumispisteellä.

Kierikin seudulla, lijoen muinaisella suistoalueella, sijaitsi kivikaudella suuria kyliä. Näiden kylien paikoilla tehdyillä arkeologisilla kaivauksilla on löydetty tuhansia muinaisesineitä, ja kaivausten perusteella on saatu paljon tietoa alueen kivikautisen väestön elämästä.

Vartion tehtävänä on tutustua Kierikkikeskuksen arkeologiseen näyttelyyn ja vastata näyttelyssä oikein Kierikin kivikautta koskeviin tehtäviin. Vastauslomake palautetaan vartion nimellä ja numerolla varustettuna tehtävän lopussa.

ARVOSTELU

Oikea vastaus sanaristikon vaakariveillä
sekä tehtäväosiossa 3 = 0,2 p

Oikea vastaus tehtäväosiossa 1 ja 4
sekä sanaristikon pystyrivillä = 0,1 p

Ajan ylitys 5 minuuttia = 0,0 p

Väli interpoloidaan suoraviivaisesti
Tehtäväkäsken vastainen suoritus = 0,0 p

LIITTEET:

VASTAUSLOMAKE

OSIO 3. SELVITÄ, MIKSI MERENRANTA EI OLE ENÄÄ KIERIKISSÄ (2, 4)

Sijoita tekstiin oikeille paikoille seuraavat sanat: A) MAANKUORI, B) MERI, C) MAANKOHOAMINEN, D) MANNERJÄÄTIKKÖ, E) ILMASTO.

Jääkaudella Suomea peitti paksu _____.

_____ painui jään painosta syvälle kuopalle.

_____ alkoi jääkauden lopulla lämmetä, ja jää sulii pois.

Jäätikön sulamisen jälkeen suurta osaa Suomesta peitti _____.

Jään painon poistuttua maa alkoi kohota ja merestä paljastui lisää maata.

_____ jatkuu tällä alueella yhä noin 9 mm vuodessa

ja merenranta siirtyy sen vuoksi kohti länttä.

Osion 3 pisteet: _____ / 1,0 p

OSIO 4. YHDISTÄ VIIVOILLA KIVIKAUDEN KAUPPATAVAROIDEN KUVAT, RAAKA-AINEET JA OMINAISUUDET (7)



PUNALIUSKE

Ensimmäinen Suomessa käyttöön otettu metalli



KUPARI

Kova ja teräväksi lohkeava kivilaji, käytetty myös tulen sytyttämiseen



MERIPIHKA

Hirvenpääkoristeisen tikarin materiaali, peräisin Pohjois-Skandinaviasta



PIIKIVI

Helmien ja nappien materiaali, tuotu Suomeen Baltian alueelta

Osion 4 pisteet: _____ / 0,8 p

Tehtävän pisteet yhteensä: _____ / 4,0 p

KIERIKKI PARTIOTAITOJEN KEVÄT-SM-KILPAILUT 14.5.2022

SARJA Or/Vi/Purppura

RASTI ?

TEHTÄVÄ ?

MAKSIMIPISTEET 4



AIKA- JA TAITOTEHTÄVÄ

KILPAILUKOHTAINEN PAINOTUS – KIVIKAUSI
KIERIKIN KIVIKAUSI

VASTAUSLOMAKE

VARTION NIMI _____ VARTION NUMERO _____



TEHTÄVIÄ
ARKEOLOGISEEN
NÄYTTELYYN

KUNKIN TEHTÄVÄN PERÄSSÄ OLEVA NUMERO KERTOO, MILTÄ NÄYTTELYOSASTOLTA LÖYDÄT OIKEAN VASTAUKSEN.

OSIO 1. YMPYRÖI OIKEA VAIHTOEHTO.

Milloin viimeisin jääkausi päättyi Suomessa (2)

- A) Noin 1000 vuotta sitten
- B) Noin 10000 vuotta sitten
- C) Noin 100000 vuotta sitten

Sukupuuttoon kuollut eläin, jonka hammas on Kierikin näyttelyssä? (2)

- A) Luolakarhu
- B) Villasarvikuono
- C) Mammutti

Millaiseen paikkaan kivikauden ihmiset rakensivat mieluiten talonsa? (4)

- A) Metsään
- B) Hiekkarannalle
- C) Suolle

Mitkä olivat Kierikin kivikautisten asukkaiden pääelinkeinoja? (6)

- A) Hylkeenmetsästys ja kalastus
- B) Maanviljelys ja karjanhoito
- C) Merirosvous ja orjakauppa


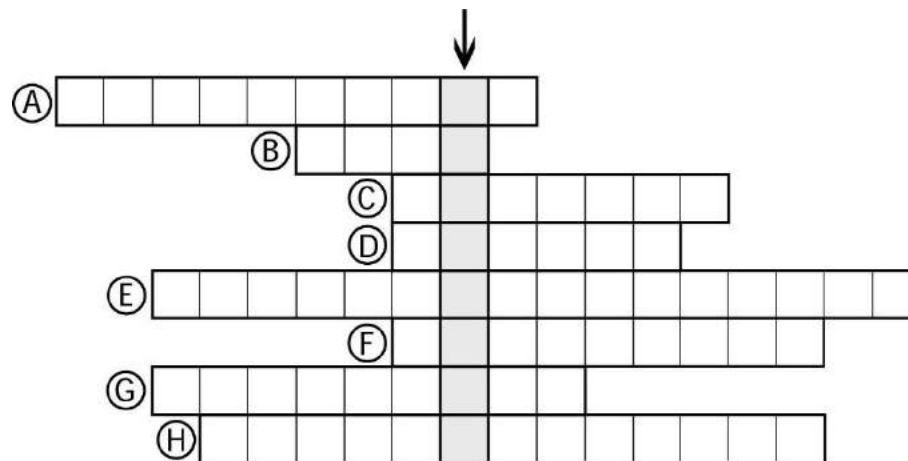
Mistä oli tehty Purkajasuosta löydetyt kalastusvälineet? (8)

- A) Sarvista ja nahkoista
- B) Puusta ja tuohesta
- C) Luista ja jätteistä

OSIO 2. KIRJOITA VASTAUS RISTIKKOON VIHJEEN EDESSÄ OLEVAN KIRJAIMEN MUKAISELLE PAIKALLE.

- A) Tärkeä riistaeläin sisämaassa kivikaudella (3, 4)
- B) Kivikautisten ruukkujen raaka-aine (5)
- C) Iskemällä työstetty Suomessa yleinen kivilaji (5)
- D) Kivilaji, josta hiottiin esineitä (5)
- E) Kivikauden liima-aine, jota pureskeltiin (6)
- F) Luusta tehty ase, jolla metsästettiin hylkeitä (6)
- G) Jo kivikaudella käytetty väriaine (9)
- H) Kivikautista taidetta (9)

Pystyrivi: Monihuoneinen kivikautinen asumus (4)



Osion 1 pisteet: _____ / 0,5 p

Osion 2 pisteet: _____ / 1,7 p

OSIO 3. SELVITÄ, MIKSI MERENRANTA EI OLE ENÄÄ KIERIKISSÄ (2, 4)

Sijoita tekstiin oikeille paikoille seuraavat sanat: A) MAANKUORI, B) MERI, C) MAANKOHOAMINEN, D) MANNERJÄÄTIKKÖ, E) ILMASTO.

Jääkaudella Suomea peitti paksu MANNERJÄÄTIKKÖ.

MAANKUORI painui jään painosta syvälle kuopalle.

ILMASTO alkoi jääkauden lopulla lämmetä, ja jää suli pois.

Jäätikön sulamisen jälkeen suurta osaa Suomesta peitti MERI.

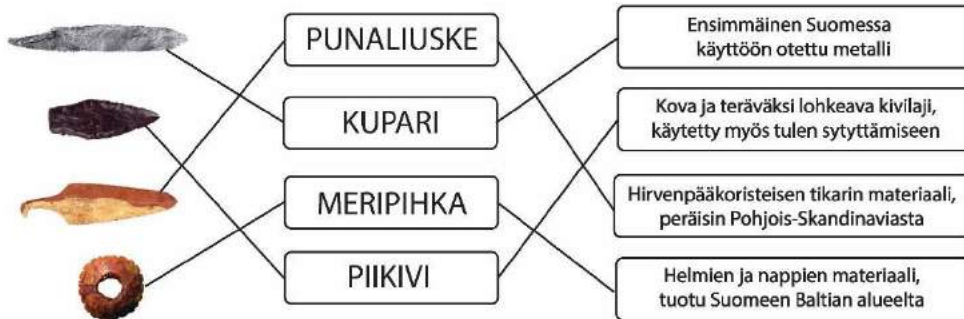
Jään painon poistuttua maa alkoi kohota ja merestä paljastui lisää maata.

MAANKOHOAMINEN jatkuu tällä alueella yhä noin 9 mm vuodessa

ja merenranta siirtyy sen vuoksi kohti länttä.

Osion 3 pisteet: _____ / 1,0 p

OSIO 4. YHDISTÄ VIIVOILLA KIVIKAUDEN KAUPPATAVAROIDEN KUVAT, RAAKA-AINEET JA OMINAISUUDET (7)



Osion 4 pisteet: _____ / 0,8 p

Tehtävän pisteet yhteensä: _____ / 4,0 p

KIERIKKI PARTIOTAITOJEN KEVÄT-SM-KILPAILUT

14.5.2022

SARJA	Or/Vi/Purppura
RASTI	?
TEHTÄVÄ	?
MAKSIMIPISTEET	4



AIKA- JA TAITOTEHTÄVÄ

KILPAILUKOHTAINEN PAINOTUS – KIVIKAUSI
KIERIKIN KIVIKAUSI

VASTAUSLOMAKE

VARTION NIMI _____ VARTION NUMERO _____



TEHTÄVIÄ
ARKEOLOGISEEN
NÄYTTELYYN

KUNKIN TEHTÄVÄN PERÄSSÄ OLEVA NUMERO KERTOO, MILTÄ NÄYTTELYOSASTOLTA LÖYDÄT OIKEAN VASTAUKSEN.

OSIO 1. YMPYRÖI OIKEA VAIHTOEHTO.

Milloin viimeisin jääkausi päättyi Suomessa (2)

- A) Noin 1000 vuotta sitten
B) Noin 10000 vuotta sitten
C) Noin 100000 vuotta sitten

Sukupuuttoon kuollut eläin, jonka hammas on Kierikin näyttelyssä? (2)

- A) Luolakarhu
B) Villasarvikuono
C) Mammutti

Millaiseen paikkaan kivikauden ihmiset rakensivat mieluiten talonsa? (4)

- A) Metsään
B) Hiekkarannalle
C) Suolle

Mitkä olivat Kierikin kivikautisten asukkaiden pääelinkeinoja? (6)

- A) Hylkeenmetsästys ja kalastus**
B) Maanviljelys ja karjanhoito
C) Merirosvous ja orjakauppa

Mistä oli tehty Purkajasuosta löydetyt kalastusvälineet? (8)


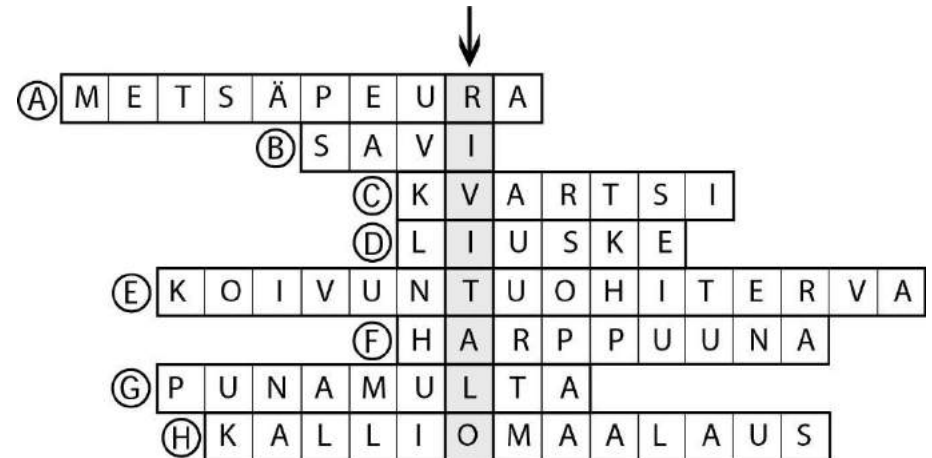
- A) Sarvista ja nahkoista
B) Puusta ja tuohesta
C) Luista ja jätteistä

Osion 1 pisteet: _____ / 0,5 p

OSIO 2. KIRJOITA VASTAUS RISTIKKOON VIHJEEN EDESSÄ OLEVAN KIRJAIMEN MUKAISELLE PAIKALLE.

- A) Tärkeä riistaeläin sisämaassa kivikaudella (3, 4)
B) Kivikautisten ruukkujen raaka-aine (5)
C) Iskemällä työstetty Suomessa yleinen kivilaji (5)
D) Kivilaji, josta hiottiin esineitä (5)
E) Kivikauden liima-aine, jota pureskeltiin (6)
F) Luusta tehty ase, jolla metsästettiin hylkeitä (6)
G) Jo kivikaudella käytetty väriaine (9)
H) Kivikautista taidetta (9)

Pystyrivi: Monihuoneinen kivikautinen asumus (4)



Osion 2 pisteet: _____ / 1,7 p